

Grade 5 Winter Holiday Assignment

*The much-awaited holidays are here yet again and
it's time to play and have fun!!*

Dear children!!

Holidays are about to begin! There is no doubt that vacations are the most appropriate time for you to refresh and rejuvenate to showcase your performance more enthusiastically. You have ample energy which needs to be channelized in the right direction to get the best from you. Keeping this in mind the holiday homework has been designed to make you more observant, confident and to enhance your learning throughout the vacation. Here is an "activity treasure BOX" for you . All the Best and have FUN! When the school reopens bring back your

TREASURE, to go through it will be our PLEASURE!



General Instructions:


1. Bring/Upload holiday homework according to the assigned date.
2. Parents are requested to only guide their children while doing the assignments.
3. All the works should be handwritten and done neatly and independently.
4. Originality of the work will be appreciated.
5. Project / Homework will be assessed on the basis of neatness, creativity and originality of ideas.



English holiday assignment

Hi Kids on this chilled winter why don't we read some books and do some fascinating activities to develop our skills in reading, writing, speaking, critical thinking and creative thinking. Let us think critically on the following activities.

Think Critically with the Image



Do the activity on a A-4 size paper.

1. Describe what you see in this picture.
2. What is this person doing?
3. Why do you think this woman may be behaving like this?
4. What do you think she is feeling? Why do you think this?
5. Where do you think she is?

Prove It Activity!

Directions: Read each statement and then circle whether it is a fact or opinion. If it's a fact, explain how it can be proven. If it is an opinion, simply write that it cannot be proven.

Do the activity on a A-4
size paper.

1. I can see the mountains from my window.

Fact or Opinion How can this be proven?

2. There are too many people on the planet.

Fact or Opinion How can this be proven?

3. My dog's name is Opie.

Fact or Opinion How can this be proven?

4. A rooster woke me up this morning.

Fact or Opinion How can this be proven?


Reading is always fun. Here are some e-books for you which will assist you to prepare a beautiful BOOK REVIEW. Choose any one e-book.

List of e-Books

<https://bookflix.digital.scholastic.com/pair/detail/bk0004pr/book?authCtx>

<https://bookflix.digital.scholastic.com/pair/detail/bk0055pr/book?authCtx>

Book Review



Plot

Event 1 _____

Event 2 _____

Event 3 _____

Book Title

Author _____

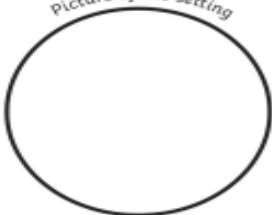
Illustrator _____

Genre (tick as many as apply to your book)

<input type="checkbox"/> fiction	<input type="checkbox"/> scary	<input type="checkbox"/> animal story
<input type="checkbox"/> non-fiction	<input type="checkbox"/> fairy tale	<input type="checkbox"/> biography
<input type="checkbox"/> fantasy	<input type="checkbox"/> adventure	<input type="checkbox"/> historical
<input type="checkbox"/> humour	<input type="checkbox"/> sports	<input type="checkbox"/> mystery
<input type="checkbox"/> other _____		

Setting

Picture of the setting



Character

Name _____

Personality _____

Physical Appearance _____

Cause and Effect of one of the events in the book

Cause

➔

Effect

My Star Rating

☆☆☆☆☆

Why I rated the book _____ stars

This book made me feel _____ because _____

draw how you felt!

How I feel about this character and why: _____

Submission Date:
09.01.2022

CRITERIA:

- Neatness
- Creativity
- Use of strong vocabulary words
- Presentation

Marks-10


MATHEMATICS

Grade 5 CHOICE BOARD

Choose **Five** activities from the Menu below.

All sweaters are 30% off of the original price. You, being the clever shopper you are, also have a coupon for 15% off any item, including sale items. How much does a \$75 sweater cost?

A cat is chasing a rabbit. The cat starts at 5m and jumps 3m every time. The rabbit starts at 8m and jumps 2m every time. If they both start at the same time, after how many jumps would the cat reach the rabbit?



The total cost of a pair of shoes and a hoodie is \$150. The hoodie costs \$100 more than the pair of shoes does. How much does each item cost?



Solve the Kenken puzzle:



Solve the statements and identify the false statement

TWO TRUTHS & ONE LIE!

Use your math skills to determine which of the three statements below is a dirty lie! Explain how you made your decision.



Find the next term in the given sequence.



Ellen wanted to buy the following items: A DVD player for \$49.95, a DVD holder for \$19.95 and a personal stereo for \$21.95. Does Ellen have enough money to buy all three items if she has \$90 with her?

There are 45 people living in a building. Out of these $\frac{1}{3}$ are men, $\frac{1}{5}$ are women and the rest are children. Find the number of men, women and children living in the building.

In an examination, 300 students appeared. Out of these students; 28 % got first division, 54 % got second division and the remaining just passed. Assuming that no student failed; find the number of students who just passed?

Task 2: Write and memorize the multiplication tables from 2 to 12.

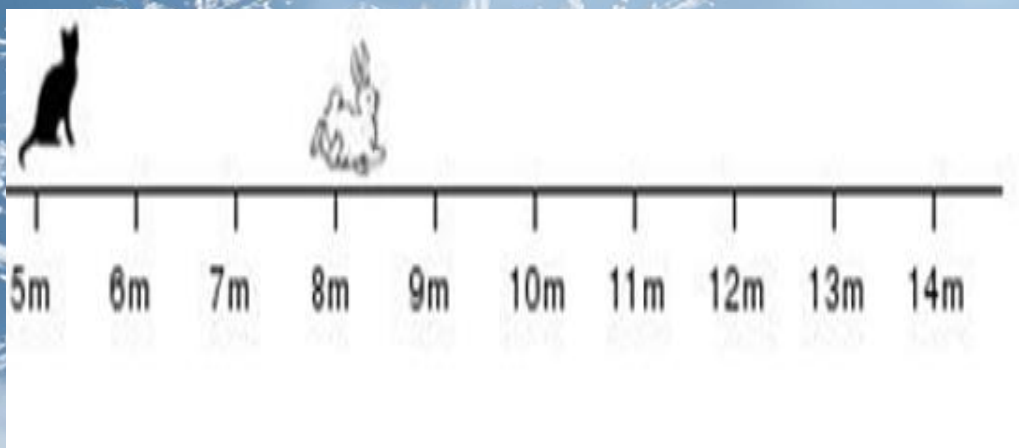
General Instructions:

- Attempt any five questions from the choice board
- Design your page.
- Your work should be attractive with proper steps.
- Be sure to place a checkmark next to the activity you want to Complete.
- Write and memorize the multiplication tables atleast two times.

Questions in Detail:

1. All sweaters are 30% off of the original price. You, being the clever shopper you are, also have a coupon for 15% off any item, including sale items. How much does a \$75 sweater cost?

2. A cat is chasing a rabbit. The cat starts at 5m and jumps 3m every time. The rabbit starts at 8m and jumps 2m every time. If they both start at the same time, after how many jumps would the cat reach the rabbit?



3. Ellen wanted to buy the following items: A DVD player for \$49.95, a DVD holder for \$19.95 and a personal stereo for \$21.95. Does Ellen have enough money to buy all three items if she has \$90 with her?

4. Solve the Kenken puzzle:

2÷		7+	4
1-	3-		2-
		4×	
1-			

5. There are 45 people living in a building. Out of these $\frac{1}{3}$ are men, $\frac{1}{5}$ are women and the rest are children. Find the number of men, women and children living in the building.

6. Find the next term in the given sequence.



7. In an examination, 300 students appeared. Out of these students; 28 % got first division, 54 % got second division and the remaining just passed. Assuming that no student failed; find the number of students who just passed.

8. The total cost of a pair of shoes and a hoodie is \$150. The hoodie costs \$100 more than the pair of shoes does. How much does each item cost?







9. Solve each statement and then identify the false statement:

TWO TRUTHS & ONE LIE!

Use your math skills to determine which of the three statements below is a dirty lie! Explain how you made your decision.

1)

	50	6
30	1,500	
3		18

 +  = 340

2)

	60	12
50		600
5	30	

 +  < 3,333

3)

	28
9	

 > 250

Rubrics

Accuracy-2

Neatness-2

Submission Date: 09.01.2022

Science

1. You have discovered a new planet! It is similar to Earth however it has no native animals. You decide to introduce animals from Earth to see if they can thrive. Which animals will you introduce? Why? How can they survive there?




2. Please Help! Samuels baby sister isn't old enough to walk long distances yet, and he has to take her on a hiking trips. Could you suggest an easy way to push her in stroller that would keep her safe and comfort



3. In a year, one student can produce up to 8 large trash bags from things they throw out after lunch. What can you do to reduce the amount of garbage you make at lunch? If reduced will it support the environment? How?



4. During a solar eclipse the shadow of the moon covers up the sun. Do you think that when it happens the whole earth will be in darkness? Why or why not?



5. Create a colored poster convincing people to come visit the sun. Include at least 3 features they would get to see.



6. A child is suffering from a deficiency disease. He shows the following symptoms.

i. Swollen stomach ii. Thin legs iii. Scaly skin

iv. Slow mental and physical development.

Identify the disease and suggest the solution to solve the problem.



7. Write a short story about a trip to go camping on moon .

Include the supplies you would need and why.



8. Create a T-chart with diagrams comparing the solubility of at least 6 substances.

9. Draw a thermometer showing the melting point and a thermometer showing the freezing point of water.

Explain how the temperatures can be the same



10. If a resource is renewable, it can still get exhausted. Discuss with two examples.

11. During a drought, the prices of grain, fruits and vegetables go up. Why do you think this happens?

Do you expect the prices of grain, fruits and vegetables to go up during floods also? Why?



12. Create, color, and label symbols to represent each of these 5 resources: biofuels, hydroelectric, wind, solar, and geothermal.

Rubrics for Evaluation

- Presentation: 6 marks
 - Creativity: 6 marks
 - Neatness: 6 marks
 - Submission on Time: 2 marks
- Date of submission: 10th January

Note-Kindly prepare a working model of your choice for the upcoming Science exhibition to be held in February 2022. (Science month)



TOPIC: SWADESHI MOVEMENT

A movement where British goods were set on fire launched in Protest of the Partition of Bengal.

1.

LIFE SKILLS

Imagination skills

Write a dialogue between a brother and a sister. The brother does not want to give up Foreign goods like clothes, perfumes, pencils and books. The sister tells him to use goods made in their own country.

OR

REPUBLIC DAY

2. Republic Day is celebrated on January 26 every year to remember the day when the Constitution of India came into effect. India was ruled by the British for over 200 years. India gained independence from the rule of the British Raj after a very long freedom struggle. Though India got its independence on August 14th, 1947, the constitution came into effect on January 26th, 1950.

PROJECT

➤ Make a Poster on the importance of Republic Day.

GUIDELINES FOR THE PROJECT/ACTIVITY


Procedure



- Choose any one PROJECT.
- Presentations should be self-explanatory and colourful and attractive. It must be done on an A4 size (only hand written project work will be encouraged and accepted.
- To be submitted after the school reopens.

Rubrics:

- a. Clarity of Concept (2)
- b. Research work, content building(2)
- c. Presentation (2)
- d. Art integration(2)
- e. Creativity (2)



Books, magazines & pictures.



HINDI WINTER HOLIDAY ASSIGNMENT

Instruction:

Read the passage carefully and do the task

शीतकालीन अवकाश हिंदी असाइनमेंट

जापान को उगते सूरज का देश कहते हैं। कई प्राकृतिक विपदाओं के बाद भी इस देश ने खूब तरक्की की है। इसका मुख्य कारण है यहां के लोगों का मेहनती होना। इन्हें बचपन से ही मेहनत करने की आदत होती है। जापान में बौद्ध धर्म का प्रचार है। जापानी लोग बच्चों को धार्मिक आचरण (behaviour) सिखाते हैं। साथ ही देश प्रेम की भावना को भी बढ़ाते हैं। एक बार सुभाष चंद्र बोस ने एक 8 वर्षीय जापानी बालक से पूछा यदि कोई बड़ी सेना लेकर जापान पर चढ़ाई करने आए तब तुम क्या करोगे? बालक ने गुस्से से कहा, “ हम बंदूक से दुश्मन को मार देंगे और देश की रक्षा करेंगे। ”

शब्दार्थ

उगते सूरज	Rising sun	मेहनती	hardworking
प्राकृतिक	Natural	बौद्ध धर्म	Buddhism
विपदाओं	obstacles	सेना	army

निम्नलिखित सवालों का जवाब लिखिए।

1 जापान को और किस नाम से जानते हैं ?

2 जापानी लोग बच्चों को कैसा आचरण सिखाते हैं ?

3 जापान में किस धर्म का प्रचार है ?

4 सुभाष चंद्र बोस ने बच्चे से क्यों पूछा कि यदि किसी ने चढ़ाई करने आए तो क्या करोगे ?

5 इस अनुच्छेद से 5 संज्ञा शब्द चुनकर लिखिए ।

6 निम्न शब्दों का अर्थ लिखिए । 1 मेहनत , 2 आचरण

7 इस अनुच्छेद से संयुक्ताक्षर ढूंढ कर लिखिए ।

8 इस अनुच्छेद में कौन से नेता का उल्लेख हुआ है ?

9 इस अनुच्छेद के लिए एक शीर्षक लिखिए ।



10

CRITERIA:

- IDENTIFICATION
- READING
- SPELLING

* चित्र को ध्यान से देखें और नेता का नाम लिखिए ।

11 ऊपर लिखित गद्यांश पढ़कर 7 नए शब्दों की सूची बनाइए ।

12 आपको यह कहानी कैसी लगी कमेंट कीजिए ।

CRITERIA:

- Comprehension
- Reading
- Written expression
- Independent work

SUBMISSION: 10TH

January, 2022

10 Marks

SUBMISSION:

10TH January.



കുട്ടികളെ, നിങ്ങൾക്ക് കഥ വായിക്കാൻ ഇഷ്ടമല്ലേ, എങ്കിൽ ഈ അവധിക്കാലത്ത് ഊളന്മാരുടെ കൂവൽ എന്ന കഥ ആയാലോ? . കഥ വായിക്കുക .

2 ഊളന്മാരും കൂവലും

പണ്ടു പണ്ട്, ഊളന്മാർ എന്ന സ്ഥലത്ത് ഒരു കാടുണ്ടായിരുന്നു. കാട്ടിൽ കരേ കറുക്കന്മാരുണ്ടായിരുന്നു. എന്നും രാത്രി എല്ലാ കറുക്കന്മാരും കൂട്ടത്തോടെ കാട്ടിന്റെ നടുക്കുള്ള കുന്നിന്റെ ഉച്ചിയിൽ കയറി കത്തിയിരിക്കും. കറുക്കന്മാർക്കൊരു ചീത്ത സ്വഭാവമുണ്ട് . എന്താണെന്നോ? കൂവൽ. രാത്രി ചന്ദ്രൻ ഉദിച്ചു വരുന്നതു കണ്ടാൽ അവർക്കു കൂവണമെന്നു തോന്നും. ഒരു കറുക്കൻ കൂവിക്കഴിഞ്ഞാൽ പിന്നെ മറ്റു കറുക്കന്മാർക്കു കൂവാതിരിക്കാൻ പറ്റില്ല. അവരും കൂവും. ഉറക്കെ. കൂ...കൂ...കൂ...

കൂർക്കും വലിച്ച് ഉറങ്ങുകയായിരുന്ന ആളുകൾ കറുക്കന്മാരുടെ കൂവൽ കേട്ട് ഉണർന്നു. കൂവൽ മൂലം ഉറക്കം നഷ്ടപ്പെട്ട ആളുകൾ പട്ടികളെ അഴിച്ചുവിട്ടു തുടങ്ങി. പട്ടികൾ കറുക്കന്മാരെ കടിച്ച് ഓടിക്കൊന്നു തുടങ്ങി. ഇതു സഹിക്കാൻ വയ്യാതെ കറുക്കന്മാർ പട്ടികളിൽ നിന്നു രക്ഷപ്പെടാൻ ഒരു ഉപായത്തിനായി ഏറ്റവും ബുദ്ധിയുള്ള കൂനൻ കറുക്കനെ അഭയം പ്രാപിച്ചു. കൂനൻ കറുക്കൻ ഉപദേശിച്ചു: “കൂവാതിരിക്കുക മാത്രമാണ് ഒരേയൊരു ഉപായം.”

കറുക്കന്മാർ അന്നു രാത്രി കൂവാതെ കുന്നിനു മുകളിൽ ഇരിക്കാൻ ശ്രമിച്ചു. പക്ഷേ ചന്ദ്രൻ ഉദിച്ചു പൊങ്ങിയപ്പോൾ അവർക്കു കൂവാതിരിക്കുവാൻ കഴിഞ്ഞില്ല. അവർ കൂവുകയും, ആളുകൾ പട്ടികളെ അഴിച്ചുവിടുകയും, കറുക്കന്മാർ പട്ടികളുടെ കടികൊണ്ട് ഓടുകയും ചെയ്തു.

ഇങ്ങനെ കരേ ദിവസം കഴിഞ്ഞു. കറുക്കന്മാർ കൂവൽ നിർത്തുന്നില്ല എന്നു കണ്ടപ്പോൾ കൂനൻ കറുക്കൻ പുതിയ ഒരു ഉപായം പ്രയോഗിച്ചു. കൂവുന്ന കറുക്കന്മാർക്ക് കൂനൻ കറുക്കൻ ഒരു പിഴ നിശ്ചയിച്ചു. അതനുസരിച്ച്, കൂവുന്ന കറുക്കന്മാർ ഒരു നിശ്ചിത സംഖ്യ ഒരു കടുക്കയിൽ ഇടണം. പിറ്റേന്നു രാവിലെ ഈ കടുക്കയിലെ പണം കൂനൻ കറുക്കനെ ഏല്പിക്കുകയും വേണം.

ഇതനുസരിച്ച് കൂനൻ കറുക്കനെ ദിവസവും ഒരുപാടു പണം കിട്ടുവാൻ തുടങ്ങി. കൂനൻ കറുക്കൻ അതുപയോഗിച്ചു സുഖമായി ജീവിച്ചു.

അങ്ങനെയിരിക്കുമ്പോൾ കൂനൻ കറുക്കന്റെ അറുപതാം പിറന്നാൾ വന്നു. പിറന്നാൾ രാത്രിയിൽ കൂനൻ കറുക്കനെ സന്തോഷിപ്പിക്കാൻ വേണ്ടി എത്ര ബുദ്ധിമുട്ടിയിട്ടാണെങ്കിലും കൂവാതിരിക്കാൻ കറുക്കന്മാർ തീരുമാനിച്ചു.

പിറന്നാൾ ദിവസം രാത്രി കൂനൻ കറുക്കൻ മറ്റു കറുക്കന്മാരുടെ കൂവൽ കേൾക്കാൻ ചെവി യോർത്തു കിടന്നു. കരേ നേരമായിട്ടും കൂവൽ കേൾക്കാതായപ്പോൾ തനിക്കു കിട്ടുന്ന പണം ഇനി കിട്ടാതെ പോകുമോ എന്ന് കൂനൻ കറുക്കനെ ഭയം തോന്നി. ആരും കാണാതെ കൂനൻ കറുക്കൻ കുന്നിന്റെ മുകളിൽ കയറി ഉച്ചത്തിൽ കൂവി: “കൂ, കൂ, കൂ, . . . ”.

കൂവൽ കേട്ടപ്പോൾ മറ്റു കറുക്കന്മാർക്കും കൂവാതിരിക്കാൻ കഴിഞ്ഞില്ല. എല്ലാവരും കൂവലിൽ പങ്കുചേർന്നു.

Grade 5 HOLIDAY ASSIGNMENT 2021-22

قم بعمل فيديو تتحدث عن جزيرة النخلة في دبي ، مع دعم الحدث الخاص بك ببعض الصور ، وشرح أجزاء الجزيرة وكيف تم بناؤها وبعض الأنشطة فيها

Make a video talking about the Palm Island in Dubai, supporting your event with some pictures, explaining the parts of the island and how it was built and some of the activities in it.

